



Concurso Público para provimento dos cargos do quadro de pessoal da
Prefeitura Municipal de Diorama-GO

AUXILIAR DE SERVIÇOS OPERACIONAIS

CONCURSO PÚBLICO

12/02/2023

CADERNO DE QUESTÕES

DISCIPLINA	QUESTÕES
Língua Portuguesa	1 a 10
Matemática	11 a 20
Atualidades e História, Geografia e Conhecimentos Gerais de Goiás e de Diorama	21 a 30

SOMENTE ABRA ESTE CADERNO QUANDO AUTORIZADO

LEIA ATENTAMENTE AS INSTRUÇÕES

Atenção: Transcreva no espaço designado da sua FICHA DE IDENTIFICAÇÃO, com sua caligrafia usual, considerando as letras maiúsculas e minúsculas, a seguinte frase:

Para as rosas, escreveu alguém, o jardineiro é eterno.

1. Quando for autorizado abrir o caderno de questões, verifique se ele está completo ou se apresenta imperfeições gráficas que possam gerar dúvidas. Se isso ocorrer, solicite outro exemplar ao fiscal de sala.
2. Este caderno é composto por questões de múltipla escolha. Cada questão apresenta quatro alternativas de respostas, das quais apenas uma é a correta.
3. O cartão-resposta é personalizado e não será substituído em caso de erro no preenchimento. Ao recebê-lo, confira se seus dados estão impressos corretamente. Se houver erro de impressão, notifique ao fiscal de sala.
4. Preencha, integralmente, um alvéolo por questão, utilizando caneta de tinta AZUL ou PRETA, fabricada em material transparente. A questão deixada em branco, com rasura ou com marcação dupla terá pontuação ZERO.

Leia o texto I e responda às questões 01, 02 e 03.

Texto I



Disponível em: @chargesdoniniu. Acesso em: 5 out. 2022.

QUESTÃO 01

A charge apresenta uma crítica

- (A) às pessoas que usam e aceitam notícias falsas de acordo com seus interesses.
- (B) aos jornais que criam e divulgam notícias falsas de forma sistemática.
- (C) às pessoas inconvenientes que tentam alertar as outras sobre notícias falsas.
- (D) aos políticos que utilizam e propagam notícias falsas para obter votos.

QUESTÃO 02

Na frase "Amigo, essa notícia é *fakenews*", o uso da vírgula após a palavra "amigo" indica que o personagem está

- (A) admirando o apego do amigo às notícias falsas.
- (B) enumerando características das notícias falsas.
- (C) chamando a atenção do outro para a importância do que vai dizer.
- (D) separando ideias opostas para que o outro entenda sua explicação.

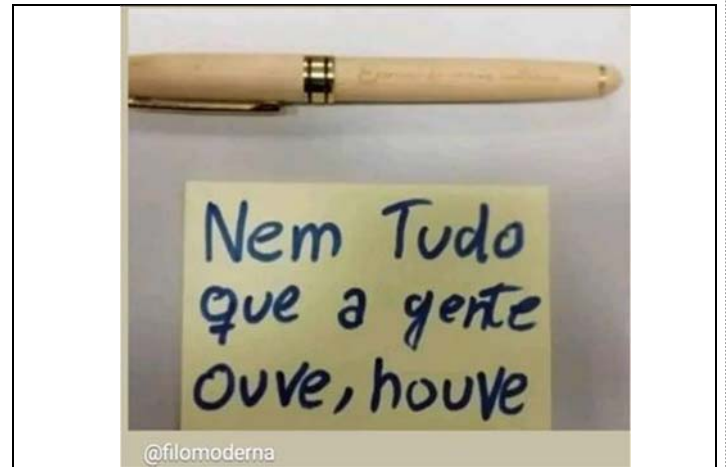
QUESTÃO 03

O ponto de exclamação usado na fala do segundo personagem indica que ele está

- (A) gritando com o amigo.
- (B) admirando a afirmação do amigo.
- (C) dando uma ordem ao amigo.
- (D) intensificando seu sentimento de apego.

QUESTÃO 04

Leia a seguinte frase extraída de uma postagem do *instagram*.



Disponível em: @filomoderna. Acesso em: 5 out. 2022.

Dentre as frases que seguem, qual delas pode substituir a postagem, sem perda de sentido?

- (A) Nem tudo nos aconteceu, aconteceu.
- (B) Nem tudo que escutamos, ouvimos.
- (C) Nem tudo que escutamos, existiu.
- (D) Nem tudo que existiu, aconteceu.

Leia os textos II, III e IV e responda às questões 05, 06 e 07.

Texto II

Traduzir-se

Uma parte de mim
é todo mundo;
outra parte é ninguém;
fundo sem fundo.

Uma parte de mim
é multidão;
outra parte estranheza
e solidão.

Uma parte de mim
pesa, pondera;
outra parte
delira.

(Ferreira Gullar. Os Melhores Poemas de Ferreira Gullar.)

Disponível em: <https://poetisarte.com/atores/ferreira-gullar/traduzir-se/>. Acesso em: 8 out. 2022.

Texto III

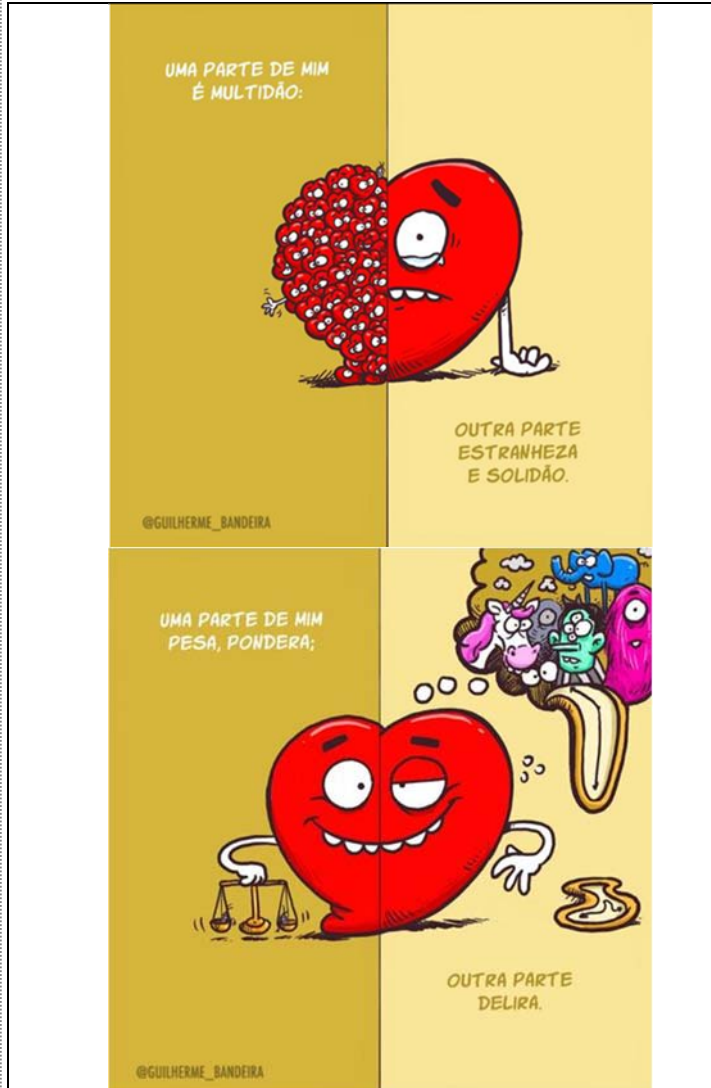
Metade Oswaldo Montenegro

Que a força do medo que tenho
Não me impeça de ver o que anseio
Que a morte de tudo em que acredito
Não me tape os ouvidos e a boca

Porque metade de mim é o que eu grito
 Mas a outra metade é silêncio
 Que a música que ouço ao longe
 Seja linda ainda que tristeza
 Que a mulher que eu amo seja pra sempre amada
 Mesmo que distante
 Porque metade de mim é partida
 Mas a outra metade é saudade

Disponível em: <https://www.letras.mus.br/oswaldo-montenegro/72954/>.
 Acesso em: 8 out. 2022.

Texto IV



Disponível em: @guilherme_bandeira. Acesso em: 08 out. 2022.

QUESTÃO 05

Os fragmentos de texto I, II e III dialogam discursivamente, pois têm em comum

- (A) a temática e a estrutura composicional em forma de diálogo narrativo.
- (B) os versos iguais e a estrutura composicional narrativa.
- (C) a autoria e a estrutura composicional em paralelismo e oposição.
- (D) a temática e a estrutura composicional em paralelismo e contraposição.

QUESTÃO 06

Com relação aos textos II, III e IV, observa-se que o autor do texto

- (A) IV utiliza linguagem não-verbal para ilustrar os versos do texto II.
- (B) IV usa da linguagem não-verbal para ilustrar os versos do texto III.
- (C) III recorre à linguagem verbal para descrever os versos do texto II.
- (D) III escreve uma narrativa para representar os personagens do texto IV para representá-los.

QUESTÃO 07

No verso "Mas a outra metade é silêncio", a palavra destacada se enquadra na regra de acentuação das paroxítonas. Das alternativas a seguir, em qual delas todas as palavras são acentuadas por seguirem a mesma norma?

- (A) Angústia, ânsia, aparência e alívio.
- (B) Suplício, saúde, decência e árduo.
- (C) Egoísmo, ânsia, aparência e decência.
- (D) Saída, país, aparência e arrogância.

Leia o texto V e responda às questões 08 e 09.

Texto V

Geografia:

A área do município é de 687.348 km². Faz divisa ao norte com Montes Claros de Goiás, ao sul com Iporá, ao leste com Jaupaci e ao oeste com Arenópolis. Sua densidade demográfica é de 3,61 habitante por quilometro quadrado. A Renda Per Capita em 2017 (a soma de todas as riquezas dividido pela população) é de R\$ 19.636,56. O Índice de Desenvolvimento Básico da Educação (IDEB) recebeu nota 6,8 (2015) nos anos iniciais do ensino fundamental. A frota de veículos (automóveis, motos e caminhões) em 2018 foi de 1003. Com pequena diferença, a maioria da população é do sexo masculino. A distância de Diorama para a capital Goiânia é de 245 quilômetros de Goiânia. *[Ipsis literis]*

Disponível em: <https://diorama.go.gov.br/pagina/id/2/?historia-do-municipio.html>. Acesso em: 07 out. 2022.

QUESTÃO 08

A partir da leitura do excerto extraído do site da prefeitura de Diorama, nota-se que se trata de um município

- (A) médio em desenvolvimento, IDEB acima do nacional, próximo da capital, com mais homens que mulheres.
- (B) rural em expansão, IDEB abaixo do nacional, próximo da capital, com mais mulheres que homens.
- (C) agrário estagnado, IDEB abaixo do nacional, próximo da capital, com mais mulheres que homens.
- (D) pequeno em desenvolvimento, IDEB acima do nacional, próximo da capital, com mais homens que mulheres.

QUESTÃO 09

No trecho "Sua densidade demográfica é de 3,61 habitante por quilometro quadrado.", a palavra sublinhada deveria ser

- (A) acentuada, porque é uma proparoxitona e em Português todas elas são acentuadas.
- (B) escrita sem acento, porque houve Acordo Ortográfico com mudanças.
- (C) acentuada, porque é uma paroxitona e em Português todas elas são acentuadas.
- (D) escrita sem acento, porque é uma paroxitona, sem regra a ser aplicada.

QUESTÃO 10

Leia a tirinha a seguir.



Disponível em: @dona.anesia. Acesso em: 7 out. 2022.

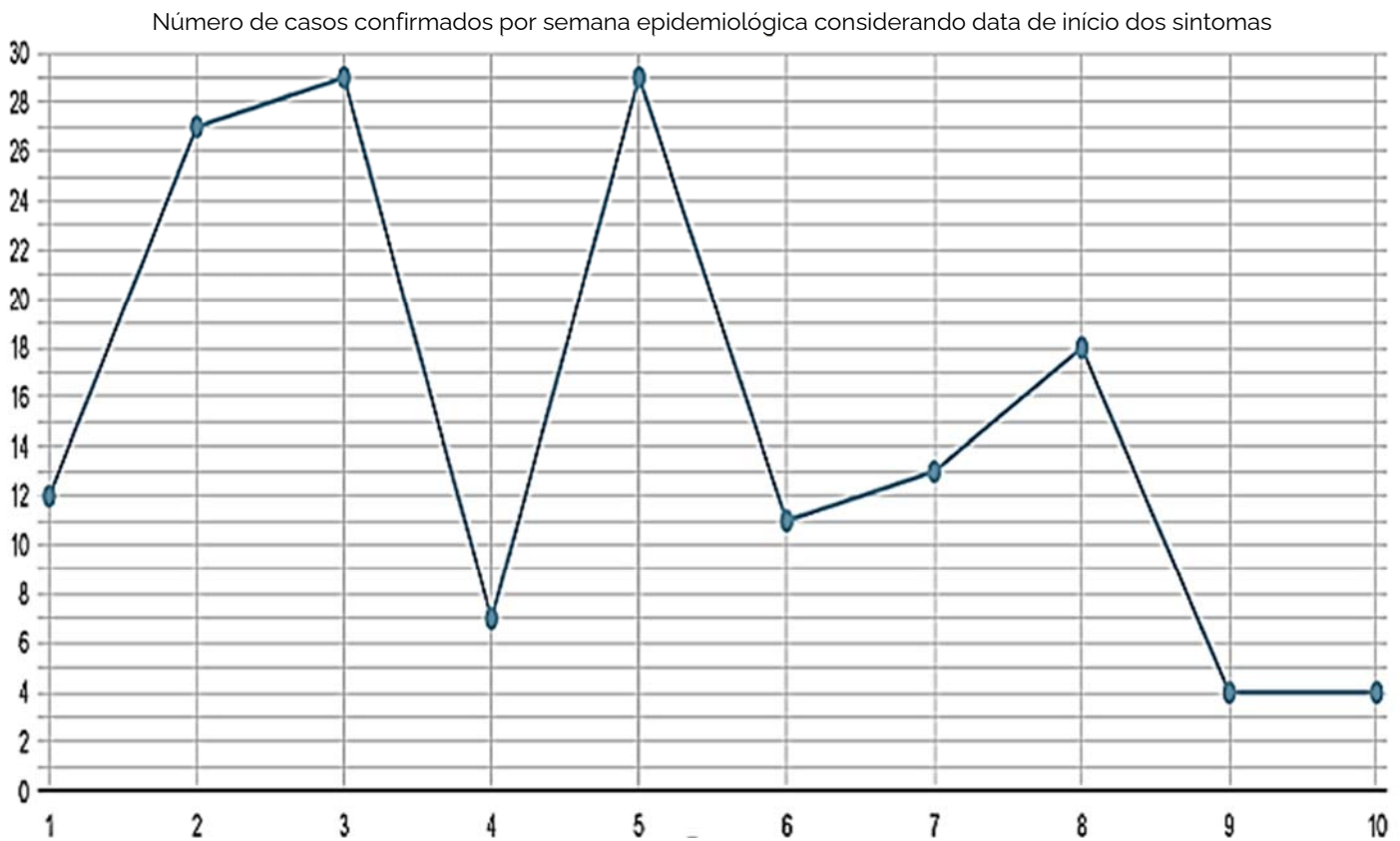
Na tirinha, a leitura da linguagem verbal somada à linguagem não-verbal permite admitir que as duas senhoras estão

- (A) conversando em voz alta com a senhora no outro quarto.
- (B) fofocando de forma sussurrada.
- (C) fofocando em tom de voz normal.
- (D) procurando de forma direta a senhora do outro quarto.

RASCUNHO

QUESTÃO 11

Observe o gráfico a seguir.



Ele apresenta a situação da COVID-19 no município de Diorama nas dez primeiras semanas epidemiológicas de 2022. Seus dados foram extraídos do painel COVID da Secretaria Estadual de Saúde de Goiás. Com base nas informações retratadas no gráfico, em qual período foi registrado um aumento de 125% dos casos confirmados em relação à semana anterior?

- (A) Da Semana 1 para a Semana 2.
- (B) Da Semana 3 para a Semana 4.
- (C) Da Semana 4 para a Semana 5.
- (D) Da Semana 7 para a Semana 8.

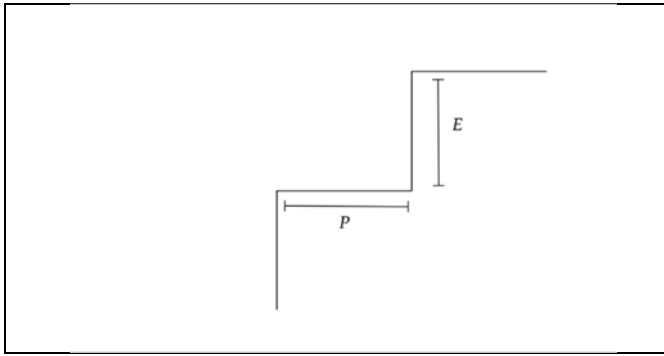
QUESTÃO 12

Se trocarmos de posição, o algarismo das centenas com o algarismo das unidades do número 269, obteremos:

- (A) 629.
- (B) 692.
- (C) 926.
- (D) 962.

QUESTÃO 13

Deseja-se construir uma escada, conforme a ilustração a seguir.



E representa a altura do espelho e P representa a extensão do piso. Em um prédio cuja altura entre o pavimento inferior e superior é de 1,6 metros, foi construída uma escada com 16 cm de altura do espelho. Calcule o número de pisos da escada construída.

- (A) 10.
- (B) 9.
- (C) 8.
- (D) 7.

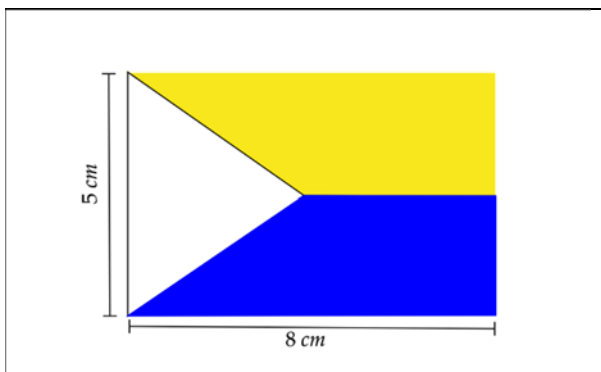
QUESTÃO 14

O valor da expressão $3 \times 4 + 10 \div 5$ é:

- (A) 11.
- (B) 12.
- (C) 13.
- (D) 14.

QUESTÃO 15

A figura a seguir é baseada nos traços da bandeira do município de Diorama. É possível identificar dois trapézios (superior e inferior) de áreas iguais e um triângulo isósceles no lado esquerdo.



Sabendo que a área do triângulo é 6 cm^2 , a área do trapézio superior será:

- (A) 14 cm^2 .
- (B) 17 cm^2 .
- (C) 20 cm^2 .
- (D) 21 cm^2 .

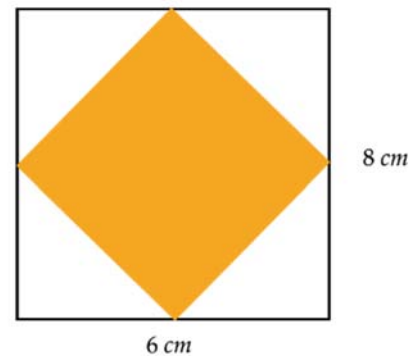
QUESTÃO 16

A operação faltante na expressão $3 \square - 2 = -6$, para torná-la matematicamente correta, é:

- (A) \times
- (B) \div
- (C) $+$
- (D) $-$

QUESTÃO 17

Um objeto possui uma forma peculiar. Externamente, o formato é de uma caixa retangular com 6 centímetros de comprimento, 8 centímetros de largura e 16 centímetros de altura. Esta caixa retangular possui em seu interior uma outra caixa de mesma altura totalmente preenchida de concreto cuja base mede 25 cm^2 de área. A imagem que segue é da base desse objeto.



Quantos litros de água é possível colocar nesse objeto, no espaço que não está preenchido por concreto, de maneira que ele fique totalmente cheio, sem transbordar?

- (A) 0,368 litros.
- (B) 36,8 litros.
- (C) 0,768 litros.
- (D) 76,8 litros.

QUESTÃO 18

O valor de $\frac{1}{2} + 2 \times \frac{3}{4} + 3 \times \frac{4}{5}$ é:

- (A) 2
- (B) $4\frac{2}{5}$
- (C) $2\frac{3}{4}$
- (D) 3

QUESTÃO 19

O dono de um campo de futebol deseja cercar o terreno retangular onde está localizado o campo. Sabendo que cada 100 metros de arame farpado custa R\$32,00 e que o campo de futebol possui 55 metros de largura e 110 metros de comprimento, qual o valor em reais da quantidade de arame que será gasto?

- (A) R\$ 52,80.
- (B) R\$ 60,50.
- (C) R\$ 105,60.
- (D) R\$ 120,30.

QUESTÃO 20

Em 40 minutos, um carro percorreu 2km. Sabendo que, depois disso, o motorista dobrou a velocidade, qual foi a distância percorrida em 1 hora?

- (A) 4km.
- (B) 6km.
- (C) 8km.
- (D) 10km.

RASCUNHO**RASCUNHO**

QUESTÃO 21

Observe a imagem.



Disponível em: <https://lemad.fflch.usp.br/node/5289>. Acesso em: 2 out. 2022.

Na cena, as pessoas estão exigindo

- (A) direito ao voto.
- (B) liberdade religiosa.
- (C) privilégios sociais.
- (D) direitos trabalhistas.

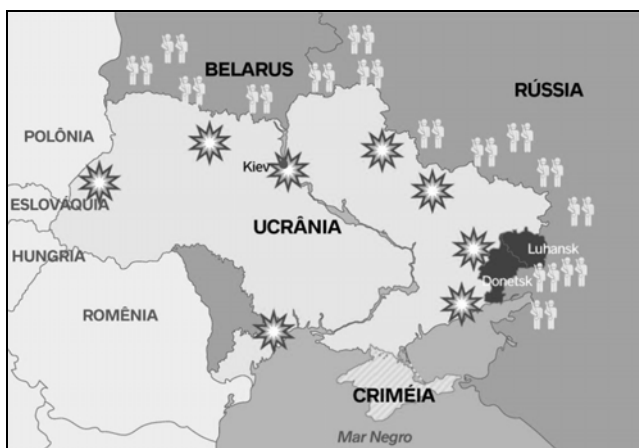
QUESTÃO 22

No estado de Goiás ocorre um evento que é um dos mais famosos do Brasil. É um longo ritual de três dias seguidos, envolvendo encenações de batalhas entre cristãos e mouros. O nome dessa festividade é

- (A) Cavalhadas de Pirenópolis.
- (B) Folia de Reis.
- (C) Festa do Divino Pai Eterno.
- (D) Romaria de Nossa Senhora da Abadia.

QUESTÃO 23

Observe o mapa.



Disponível em: <https://diariodonordeste.verdesmares.com.br>. Acesso em: 2 out. 2022.

A situação apresentada nesse mapa refere-se

- (A) à imigração na Europa.
- (B) aos novos países europeus.
- (C) à guerra entre países da Europa.
- (D) ao comércio entre os europeus.

QUESTÃO 24

Goiás é um estado com muitas áreas de cerrado, nas quais existem inúmeras cachoeiras, grutas e formações rochosas. Essas paisagens naturais são muito utilizadas para o turismo

- (A) histórico.
- (B) ecológico.
- (C) religioso.
- (D) cultural.

QUESTÃO 25

Agosto e setembro são os meses mais secos em algumas regiões do Brasil. Pesquisadores afirmam que os lugares onde mais ocorreram queimadas no ano de 2022 foram

- (A) na Caatinga e no Pampa.
- (B) na Mata Atlântica e no Litoral.
- (C) na Amazônia e no Cerrado.
- (D) no Pantanal e no Agreste.

QUESTÃO 26

Os estados de Goiás, Mato Grosso, Tocantins e Pará são banhados por um rio que nasce na Serra do Caiapó, próximo ao Parque Nacional das Emas, no município de Mineiros, em Goiás. Ele é considerado o principal afluente do rio Tocantins e percorre cerca de 2.115 km. Trata-se do rio

- (A) Araguaia.
- (B) Paranaíba.
- (C) Vermelho.
- (D) Corumbá.

QUESTÃO 27

Em setembro de 2022 foi divulgado que o maior número de pessoas passando fome no Brasil (6,8 milhões) vive no seguinte estado:

- (A) Minas Gerais.
- (B) Bahia.
- (C) Rio de Janeiro.
- (D) São Paulo.

QUESTÃO 28

A mudança da capital do estado de Goiás ocorreu na década de 1930. Isso aconteceu quando a antiga Vila Boa começou a perder importância econômica devido à queda

- (A) da agricultura.
- (B) da mineração.
- (C) da pecuária.
- (D) da caça e pesca.

QUESTÃO 29

Observe a imagem.



Disponível em: <https://diorama.go.gov.br/pagina/id/2/?historia-do-municipio.html>. Acesso em: 6 out. 2022.

O brasão do município de Diorama dá destaque

- (A) à indústria e à ecologia.
- (B) à educação e à cultura.
- (C) à mineração e à política.
- (D) à pecuária e à agricultura.

QUESTÃO 30

A Covid-19 foi considerada uma pandemia porque

- (A) causou muitas mortes.
- (B) isolou várias pessoas.
- (C) atingiu o mundo todo.
- (D) prejudicou a economia.

RASCUNHO